
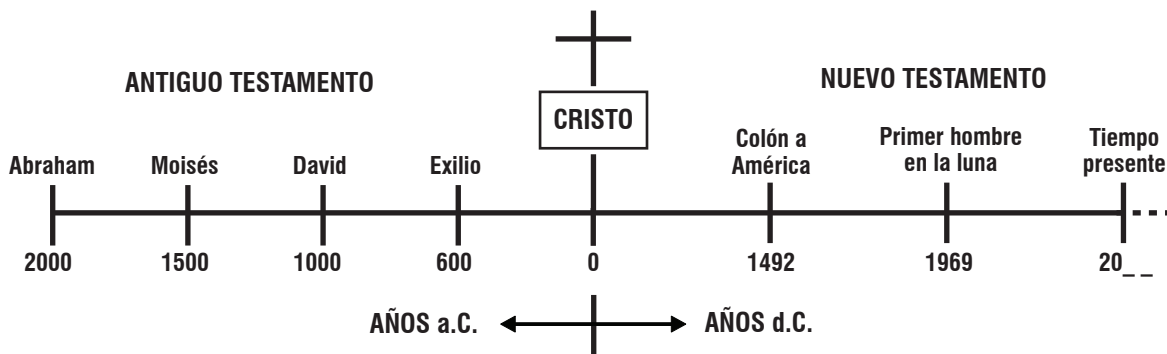


Lección 8A

El transfondo del Nuevo Testamento



Desde la Lección 3A, hemos trazado la historia del Antiguo Testamento, desde Adán y Eva hasta el tiempo de Cristo.



1. Con ayuda de la línea del tiempo, marque las afirmaciones correctas.
- a. Las raíces del pueblo judío se encuentran en el Antiguo Testamento.
 - b. Abraham vivió 2000 años antes de Cristo.
 - c. El rey David reinó en 1000 a. C.
 - d. El evento más importante en la historia fue la vida de Cristo.
 - e. El período del Nuevo Testamento viene en los años a. C.

Comprobación

1. a. b. c. d.


--	--

2. En la última lección aprendimos que los judíos comenzaron a volver del exilio:
- a. Aproximadamente 500 d.C.
 - b. Aproximadamente 1500 a.C.
 - c. Aproximadamente 500 a.C.
3. En el largo período de 500 años hasta el nacimiento de Cristo, ocurrieron muchos eventos. Para comenzar, los judíos debieron reconstruir sus hogares, el templo y los muros de la ciudad de Jerusalén. Pero, siguieron siendo gobernados por naciones extranjeras: primero por Persia y luego por Grecia, Egipto y Siria. En 167 a.C. los judíos comenzaron a rebelarse contra estos gobernantes y durante unos pocos años ganaron su libertad. Sin embargo, los mismos gobernantes judíos se corrompieron, y al poco tiempo su libertad les fue quitada por los ejércitos romanos.

¿Cuál fue el último en esta línea de gobiernos extranjeros?

- a. Persia
 - b. Grecia
 - c. Egipto
 - d. Siria
 - e. Roma
4. ¿En qué condición estaba el pueblo judío al comenzar el Nuevo Testamento?
- a. Aún estaba en el exilio, en Babilonia.
 - b. Estaba libre, con su propio gobierno.
 - c. Estaba bajo el gobierno del Imperio Romano.
5. El Imperio Romano duró 700 años, más tiempo que cualquier otro en la historia. Compárelo con el gobierno español en América (unos 250 años) o el imperio soviético comunista (70 años).

Así como cualquier nación odia vivir bajo el dominio de otra, los judíos odiaban ser gobernados por Roma. Pero estaban impotentes, porque los soldados romanos estaban en todas partes del país.



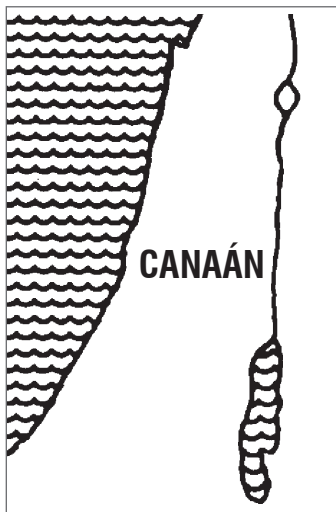
¿Qué actitud tenían los judíos hacia los romanos? _____

Comprobación

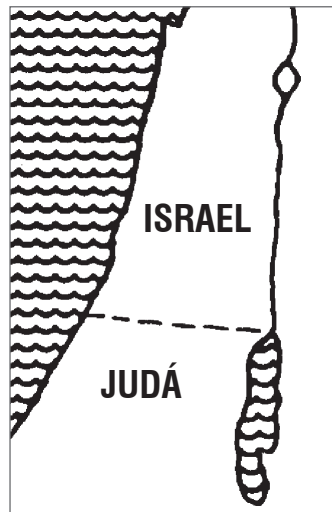
2. c.
3. e.

4. c.
5. Odio

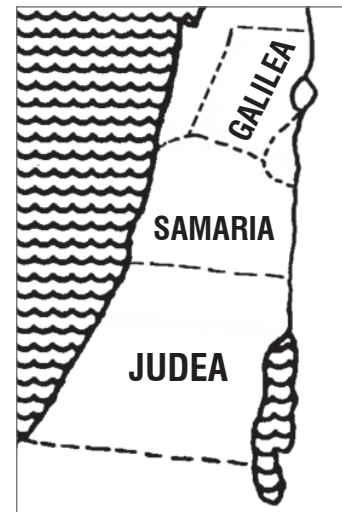
6. Diferentes grupos de judíos respondieron a los romanos de diversas maneras. Por ejemplo, los zelotes o cananistas se rebelaron contra ellos con las armas. Pero los saduceos colaboraron con los romanos a cambio de participar en el poder. Los fariseos evadieron la política y se refugiaron en la ley religiosa con la esperanza de traer el reino de Dios más pronto. ¿Qué grupo de judíos
- a) se rebeló contra los romanos? _____
- b) colaboró con los romanos? _____
- c) evadió la política? _____
7. El nacimiento de Jesús ocurrió en Belén debido a un decreto del Emperador Romano y Jesús murió en Jerusalén por mandato de Poncio Pilato, un gobernador romano.
- a) ¿Bajo qué imperio vivió y murió Jesús? _____
- b) ¿En qué nación nació Jesús? _____
8. Aprendamos más acerca de la tierra de Jesús. Observe estos tres mapas.



1. El tiempo de Abraham



2. El tiempo de los Reyes



3. El tiempo de Cristo

En diferentes períodos el mismo país ha tenido distintos nombres.

- a) En el tiempo de Abraham, se llamaba _____.
- b) En el tiempo de los reyes, fue dividido en I _____ y J _____.
- c) En el tiempo de Cristo, fue dividido en las provincias de G _____, S _____ y J _____.


Comprobación

6. a) Zelotes
b) Saduceos
c) Fariseos

7. a) Romano
b) Judía

8. a) Canaán
b) Israel/ Judá
c) Galilea/ Samaria/ Judea

9. Veamos el mapa en relación con los principales eventos de la vida de Jesús.



Jesús nació en Belén. Mire el mapa y diga en qué provincia se ubicaba. _____

10. En aquel entonces la provincia de Judea estaba gobernada por Herodes el Grande, el rey cruel que trató de asesinar al niño Jesús.

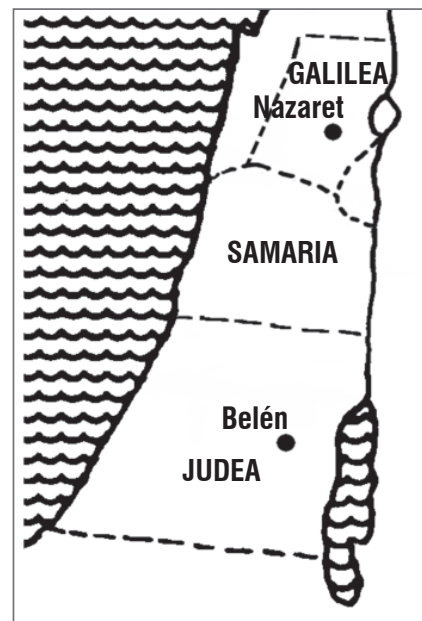
- a) ¿En qué ciudad nació Jesús? _____
- b) ¿En qué provincia? _____

11. Para huir de Herodes, José y María llevaron al niño Jesús a Egipto; y más tarde se asentaron en Nazaret, un pueblo en los cerros, donde Jesús creció y aprendió el oficio de carpintero.

¿En qué provincia se encuentra Nazaret, según el mapa? _____

12. De las siguientes oraciones, marque las correctas:

- a. Jesús nació en Nazaret.
- b. Belén está en la provincia de Judea.
- c. Jesús vivió su niñez y juventud en Belén.
- d. Nazaret está en la provincia de Galilea.
- e. Jesús vivió su niñez y juventud en Nazaret.

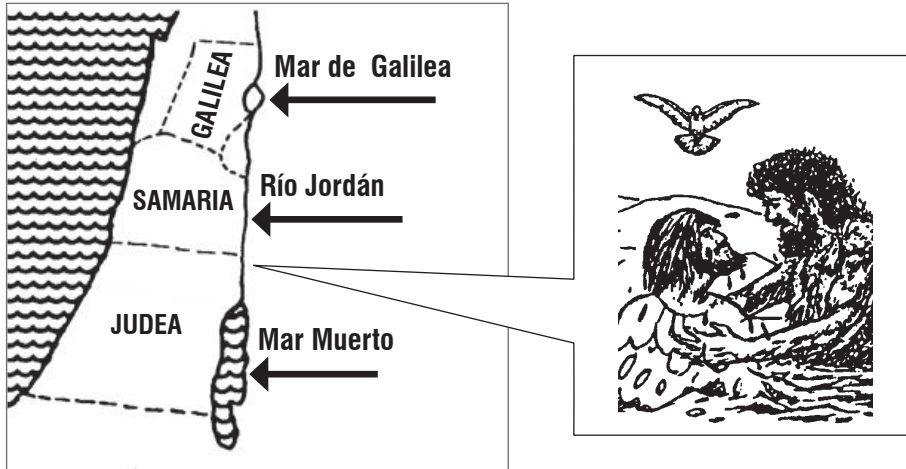


Comprobación

- 9. Judea
- 10. a) Belén
- b) Judea

- 11. Galilea
- 12. b. d. e.

13. A la edad de 30 años, Jesús fue bautizado por Juan el Bautista.



¿En qué río fue bautizado Jesús? _____


14. El Río Jordán nace en el Norte del país y fluye hacia el Sur. Pasa por el Mar de Galilea y termina en el Mar Muerto.

a) ¿En qué ciudad nació Jesús? _____

b) ¿En qué pueblo pasó su niñez y juventud? _____

c) ¿En qué río se bautizó? _____

15. Después de su bautismo Jesús volvió a la provincia de Galilea donde llamó a sus discípulos, enseñó al pueblo e hizo milagros.



¿En qué provincia tuvo lugar gran parte del ministerio público de Jesús? _____

Comprobación

- 13. Jordán
- 14. a) Belén
- b) Nazaret
- c) Jordán

15. Galilea

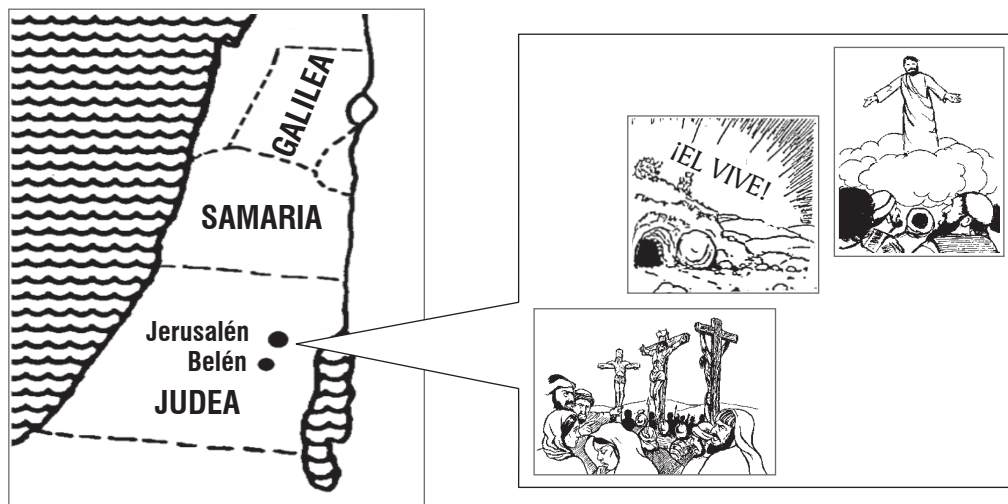
16. Jesús continuó su ministerio en el pueblo durante tres años. Aunque trabajó mayormente en la provincia de Galilea, a veces viajó a Jerusalén para las fiestas especiales y también pasó por Samaria dando las buenas nuevas a una mujer samaritana y a sus amigos. ¿En qué provincia tuvo Jesús la mayor parte de su ministerio?

- a. Galilea
- b. Samaria
- c. Judea

17. Una con líneas los acontecimientos de la vida de Jesús con los lugares correctos.

Hecho	Lugar
1) Nacimiento	A. Provincia of Galilea
2) Niñez y juventud	B. Río Jordán
3) Bautismo	C. Belén
4) Ministerio	D. Nazaret

18. Los últimos hechos de la vida de Jesús, es decir, su muerte, resurrección y ascensión al cielo, todos tuvieron lugar en una ciudad.



- a) ¿Cómo se llama esta ciudad? _____
- b) ¿En qué provincia estaba? _____
- c) ¿Está al Norte o al Sur de Belén? _____

19. Jerusalén era una ciudad muy importante y repetidamente Jesús contó a sus discípulos que tendría que morir allí.

Comprobación

- | | |
|--|--|
| 16. a.
17. 1) C
2) D
3) B
4) A | 18. a) Jerusalén
b) Judea
c) Norte |
|--|--|

- A. Los reyes habían reinado allí durante cientos de años, así que era el mejor lugar simbólico para que Jesús iniciara su reino.
- B. Allí habían sido ofrecidos sacrificios de animales durante siglos, así que era el mejor lugar para que Jesús ofreciera el perfecto sacrificio de su muerte.

¿Cuál de estas dos afirmaciones es correcta?

- a. Solamente A.
- b. Solamente B.
- c. Tanto A. como B.
- d. Ninguna de las dos.

20. Jesús fue a Jerusalén por última vez a la edad de 33 años. Entró en la ciudad montado sobre un burro y fue aplaudido por la muchedumbre. Allí comió la “última cena” con sus discípulos, fue sentenciado a muerte y azotado. Luego, fuera del muro de la ciudad fue crucificado y sepultado, pero ¡al tercer día resucitó! Y desde el Monte de los Olivos, frente a Jerusalén, ascendió a los cielos.

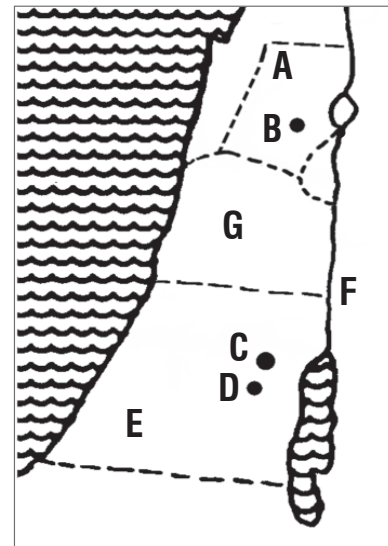
Todos estos eventos están registrados en los cuatro evangelios y todos sucedieron en la ciudad de _____.

21. ¿Dónde tuvieron lugar los siguientes cinco hechos de la vida de Jesús?

- a) Nacimiento _____
- b) Niñez y juventud _____
- c) Bautismo _____
- d) Ministerio _____
- f) Muerte y resurrección _____

22. ¿Qué letra del mapa marca cada uno de los siguientes lugares?

- 1) Belén Letra _____
- 2) Nazaret Letra _____
- 3) Jerusalén Letra _____
- 4) Río Jordán Letra _____
- 5) Provincia de Galilea Letra _____
- 6) Provincia de Judea Letra _____
- 7) Provincia de Samaria Letra _____



Comprobación

- 19. c.
- 20. Jerusalén

- 21. a) Belén
- b) Nazaret
- c) Río Jordán
- d) Galilea
- e) Jerusalén

- 22. 1) D
- 2) B
- 3) C
- 4) F
- 5) A
- 6) E
- 7) G

Prueba 8A

1. ¿Cuántos años aproximadamente pasaron entre el regreso de los judíos del exilio y el nacimiento de Cristo? _____

2. a) ¿Bajo qué imperio extranjero vivían los judíos en el tiempo de Cristo? _____
b) ¿Cuál fue la actitud de la mayoría de los judíos hacia esos gobernantes extranjeros? _____

3. ¿Dónde tuvieron lugar los siguientes cinco hechos de la vida de Jesús?
 - a) Nacimiento _____
 - b) Niñez y juventud _____
 - c) Bautismo _____
 - d) Ministerio _____
 - e) Muerte y resurrección _____

4. Marque en el mapa los siguientes lugares.
Las provincias de **Galilea**, **Samaria** y **Judea**.
Las ciudades de **Nazaret**, **Jerusalén** y **Belén**.
El **Río Jordán**, que es donde Jesús fue bautizado.

